



# 연산 진단 평가

## 기적의 계산법

맞힌 개수 개

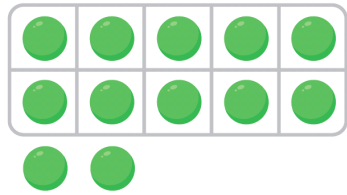
1 손가락에 ○를 그리고, 덧셈을 하세요.

$9 + 2 = \square$



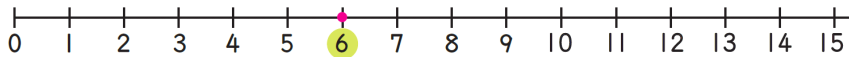
2 구슬은 몇 개 남을까요? 빼는 수만큼 /으로 지우고 뺄셈을 하세요.

$12 - 4 = \square$



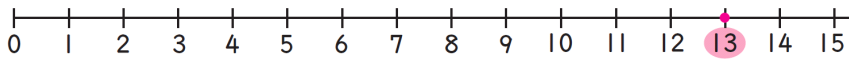
3 수직선에 화살표를 그리고 덧셈을 하세요.

$6 + 5 = \square$

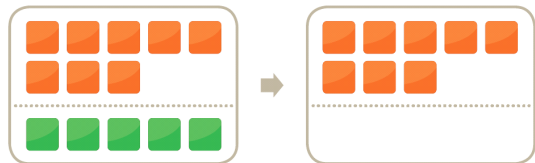


4 수직선에 화살표를 그리고 뺄셈을 하세요.

$13 - 5 = \square$



5 수 블록은 모두 몇 개일까요? 초록색 블록을 □로 옮겨 그리고 덧셈을 하세요.



$8 + 5 = \square$

6 뒤의 수를 두 수로 가르고 덧셈을 하세요.

$$\begin{array}{c} 7 + 6 \\ \swarrow \quad \searrow \\ 7 + \square + 3 = \square \end{array}$$

7 앞의 수를 두 수로 가르고 덧셈을 하세요.

$$\begin{array}{c} 4 + 8 \\ \swarrow \quad \searrow \\ 2 + \square + 8 = \square \end{array}$$


8 뒤의 수를 두 수로 가르고 뺄셈을 하세요.

$$\begin{array}{c} 16 - 7 \\ \swarrow \quad \searrow \\ 16 - \square - 1 = \square \end{array}$$

9 앞의 수를 두 수로 가르고 뺄셈을 하세요.

$$\begin{array}{c} 15 - 6 \\ \swarrow \quad \searrow \\ 10 - 6 + \square = \square \end{array}$$

10 '뽑기 기계'를 이용하여 덧셈과 뺄셈을 하세요.



[11~15] 덧셈과 뺄셈을 하세요.

11  $7 + 7 = \square$

12  $5 + 9 = \square$

13  $8 + 3 = \square$

14  $17 - 9 = \square$

15  $14 - 8 = \square$