

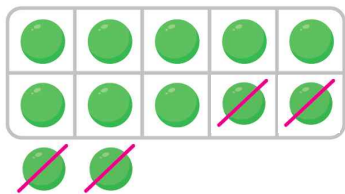
1 손가락에 ○를 그리고, 덧셈을 하세요.

$$9 + 2 = 11$$



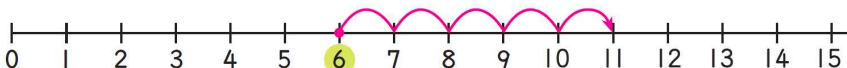
2 구슬은 몇 개 남을까요? 빼는 수만큼 /으로 지우고 뺄셈을 하세요.

$$12 - 4 = 8$$



3 수직선에 화살표를 그리고 덧셈을 하세요.

$$6 + 5 = 11$$

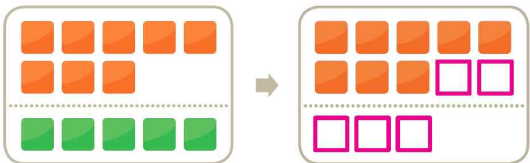


4 수직선에 화살표를 그리고 뺄셈을 하세요.

$$13 - 5 = 8$$



5 수 블록은 모두 몇 개일까요? 초록색 블록을 □로 옮겨 그리고 덧셈을 하세요.



$$8 + 5 = 13$$

6 뒤의 수를 두 수로 가르고 덧셈을 하세요.

$$7 + 6 = 7 + 3 + 3 = 13$$

7 앞의 수를 두 수로 가르고 덧셈을 하세요.

$$4 + 8 = 2 + 2 + 8 = 12$$


8 뒤의 수를 두 수로 가르고 뺄셈을 하세요.

$$16 - 7 = 16 - 6 - 1 = 9$$

9 앞의 수를 두 수로 가르고 뺄셈을 하세요.

$$15 - 6 = 10 - 6 + 5 = 9$$

10 '뽑기 기계'를 이용하여 덧셈과 뺄셈을 하세요.



[11~15] 덧셈과 뺄셈을 하세요.

11 $7 + 7 = 14$

12 $5 + 9 = 14$

13 $8 + 3 = 11$

14 $17 - 9 = 8$

15 $14 - 8 = 6$