



P5


연산 진단 평가

기적의 계산법

맞힌
개수

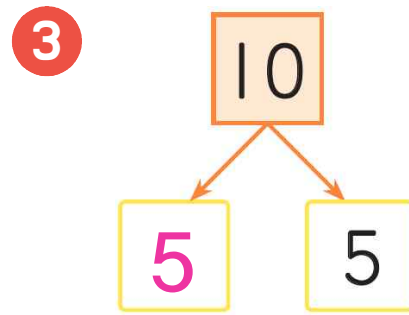
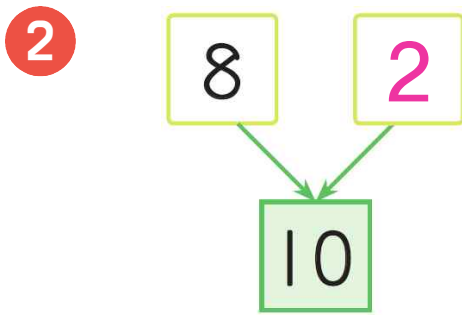
개

1 빈 곳에 구슬을 그리고 □ 안에 10의 짝꿍수를 쓰세요.

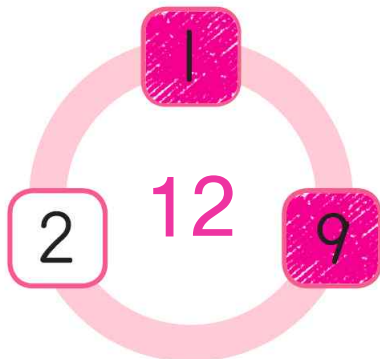


$$\boxed{7} - \boxed{3}$$

[2~3] 10의 짝꿍수를 빈 곳에 쓰세요.



4 더해서 10이 되는 두 수를 찾아 색칠하고, 가운데에 세 수의 합을 쓰세요.



5 뺄셈을 하세요.

$$16 - 6 - 2 = \boxed{8}$$

① $\boxed{10}$

② $\boxed{8}$

[6~7] □ 안에 알맞은 수를 쓰세요.

$$6 \quad 9 + \boxed{1} = 10$$

$$7 \quad 10 - \boxed{4} = 6$$

[8~15] 덧셈과 뺄셈을 하세요.

$$8 \quad 8 + 2 + 4 = \boxed{14}$$

$$9 \quad 3 + 5 + 5 = \boxed{13}$$

$$10 \quad 1 + 9 + 8 = \boxed{18}$$

$$11 \quad 7 + 6 + 4 = \boxed{17}$$

$$12 \quad 17 - 7 - 8 = \boxed{2}$$

$$13 \quad 15 - 5 - 4 = \boxed{6}$$

$$14 \quad 19 - 9 - 5 = \boxed{5}$$

$$15 \quad 18 - 8 - 2 = \boxed{8}$$