

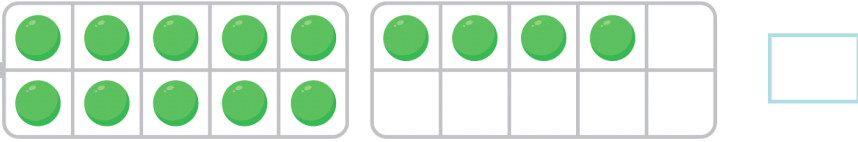


연산 진단 평가

기적의 계산법

맞힌 개수 개

1 구슬은 모두 몇 개일까요?

10 

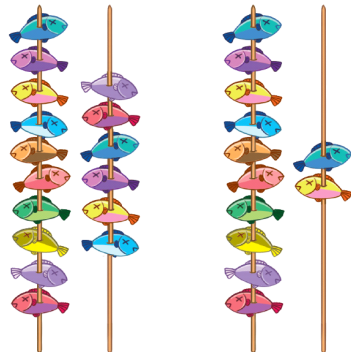
2 주어진 수에 맞게 빈 곳에 ○를 그리세요.

18 

[3~4] 순서에 맞게 수를 쓰세요.

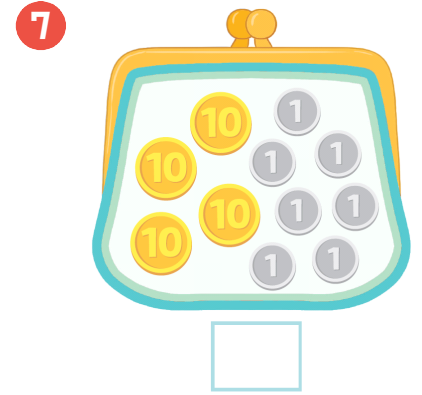
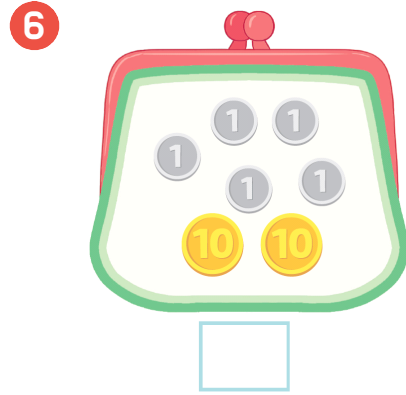


5 물고기 수를 비교하여 >, <로 나타내세요.



16 ○ 12

[6~7] 동전지갑에 들어있는 동전은 모두 얼마일까요?



[8~9] 순서에 맞게 빈칸에 알맞은 수를 쓰세요.

8 44 46 47 48 9 69 71 73

[10~11] 수의 순서를 생각하면서 □ 안에 | 큰 수와 | 작은 수를 알맞게 써넣으세요.

10 |작은수 □ ← 17 → □ |큰수

11 |작은수 □ ← 51 → □ |큰수

[12~13] 덧셈을 하세요.

12 30 + 8 = _____

13 90 + 5 = _____

[14~15] 몇십몇을 덧셈으로 나타내세요.

14 48 = _____ + _____

15 60 = _____ + _____