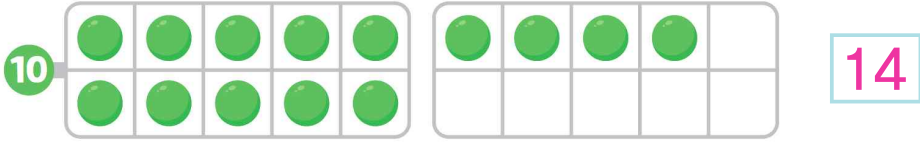



1 구슬은 모두 몇 개일까요?



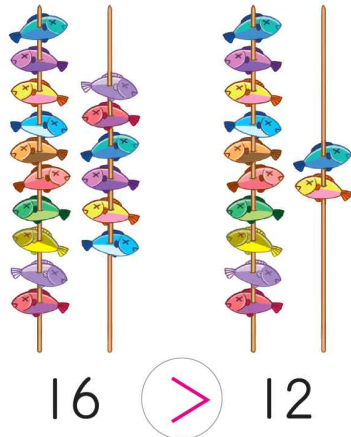
2 주어진 수에 맞게 빈 곳에 ○를 그리세요.



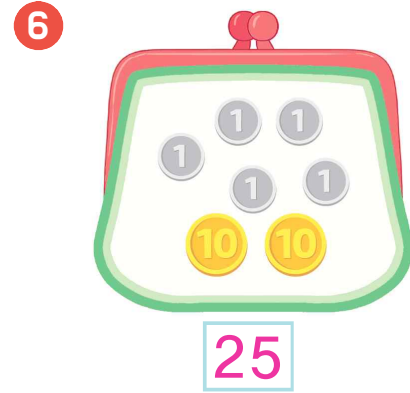
[3~4] 순서에 맞게 수를 쓰세요.



5 물고기 수를 비교하여 >, <로 나타내세요.



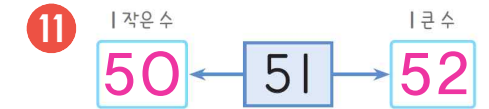
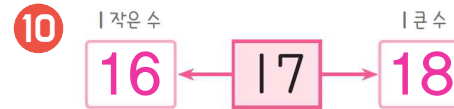
[6~7] 동전지갑에 들어있는 동전은 모두 얼마일까요?



[8~9] 순서에 맞게 빈칸에 알맞은 수를 쓰세요.



[10~11] 수의 순서를 생각하면서 □ 안에 | 큰 수와 | 작은 수를 알맞게 써넣으세요.



[12~13] 덧셈을 하세요.

12 $30 + 8 = \underline{38}$

13 $90 + 5 = \underline{95}$

[14~15] 몇십몇을 덧셈으로 나타내세요.

14 $48 = \underline{40} + \underline{8}$

15 $60 = \underline{60} + \underline{0}$