



P3

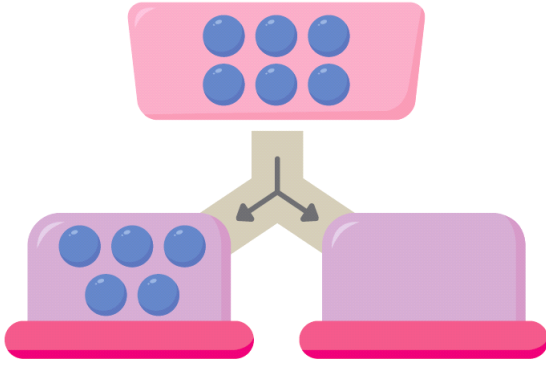
# 연산 진단 평가

기적의 계산법

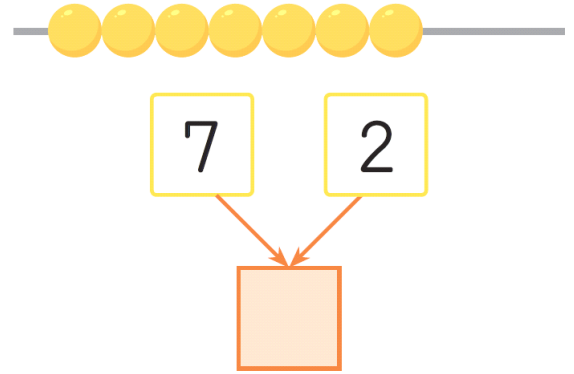
맞힌  
개수

개

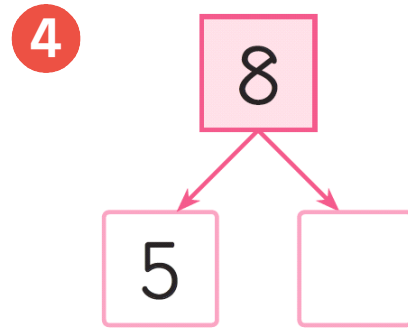
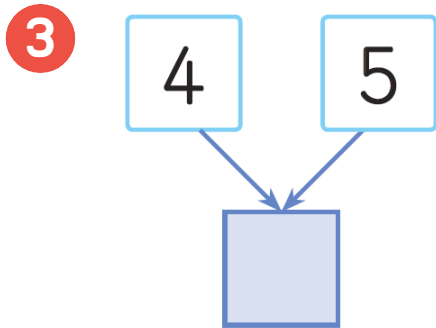
- 1 위에 공을 넣으면 아래로 나뉘어요.  
나뉜 공의 수만큼 ○를 그리세요.



- 2 위의 두 수만큼 구슬을 모아요.  
○를 그리고 빈 곳에 수를 쓰세요.

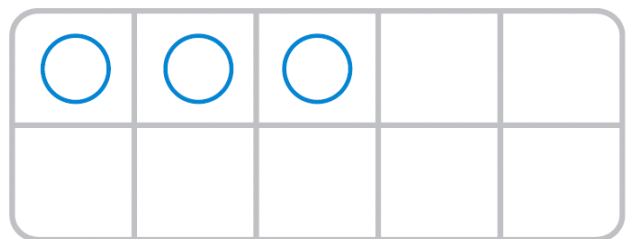



[3~5] 수를 모으거나 가르세요.




- 6 사탕은 모두 몇 개일까요? ○를 그리고 덧셈을 하세요.

$$3 + 5 = \square$$



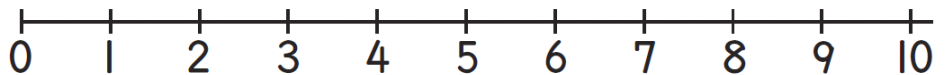
7 빼는 수만큼 연결모형을 ×로 지우고 빨섬을 하세요.

$6 - 4 = \square$



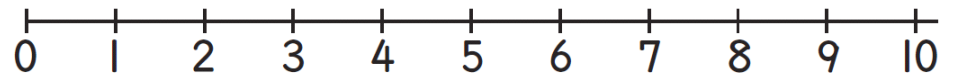
8 수직선에 화살표를 그리고, 덧셈을 하세요.

$3 + 4 = \square$



9 수직선에 화살표를 그리고, 빼셈을 하세요.

$7 - 2 = \square$



[10~15] 덧셈과 빼셈을 하세요.

$10 \quad 6 + 2 = \square$

$11 \quad 8 - 3 = \square$

$12 \quad 9 - 6 = \square$

$13 \quad 3 + 3 = \square$

$14 \quad 2 + 6 = \square$

$15 \quad 5 - 4 = \square$