



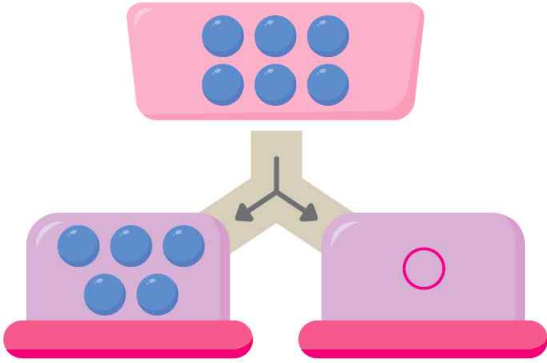
P3

연산 진단 평가

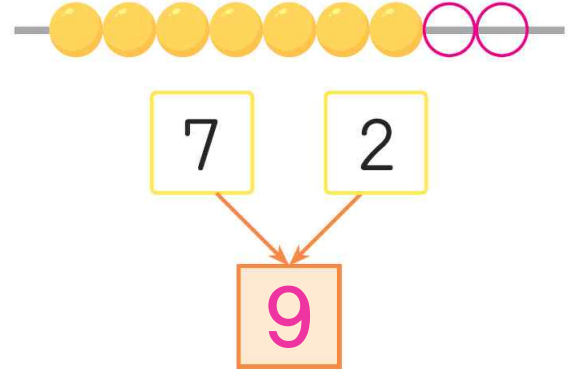
맞힌
개수

개

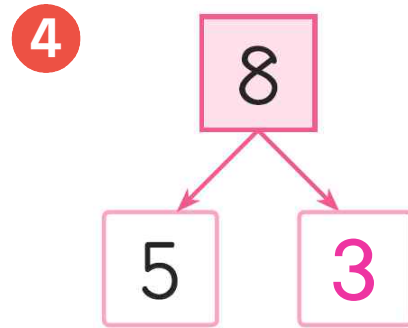
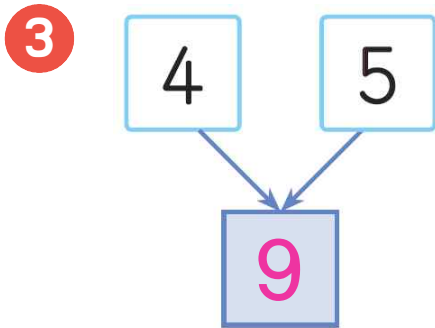
- 1 위에 공을 넣으면 아래로 나뉘어요.
나뉜 공의 수만큼 ○를 그리세요.



- 2 위의 두 수만큼 구슬을 모아요.
○를 그리고 빈 곳에 수를 쓰세요.

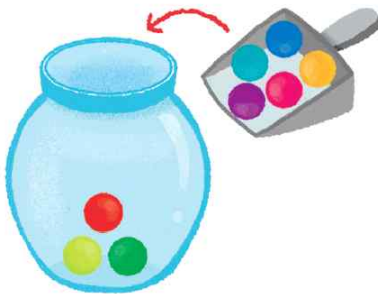


[3~5] 수를 모으거나 가르세요.



- 6 사탕은 모두 몇 개일까요? ○를 그리고 덧셈을 하세요.

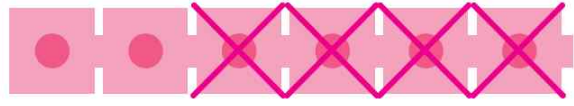
$$3 + 5 = 8$$



○	○	○	○	○
○	○	○		

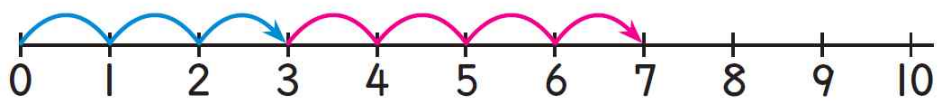
7 빼는 수만큼 연결모형을 ×로 지우고 뺄셈을 하세요.

$$6 - 4 = \boxed{2}$$



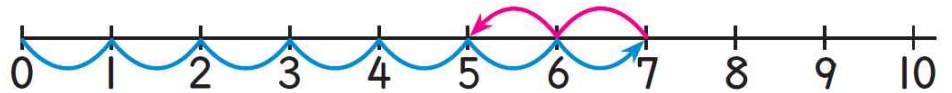
8 수직선에 화살표를 그리고, 덧셈을 하세요.

$$3 + 4 = \boxed{7}$$



9 수직선에 화살표를 그리고, 뺄셈을 하세요.

$$7 - 2 = \boxed{5}$$



[10~15] 덧셈과 뺄셈을 하세요.

$$10 \quad 6 + 2 = \boxed{8}$$

$$11 \quad 8 - 3 = \boxed{5}$$

$$12 \quad 9 - 6 = \boxed{3}$$

$$13 \quad 3 + 3 = \boxed{6}$$

$$14 \quad 2 + 6 = \boxed{8}$$

$$15 \quad 5 - 4 = \boxed{1}$$