



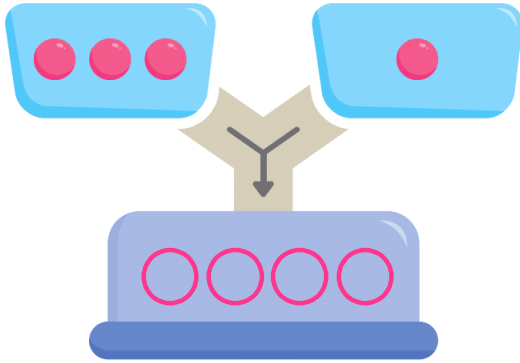
P2

연산 진단 평가

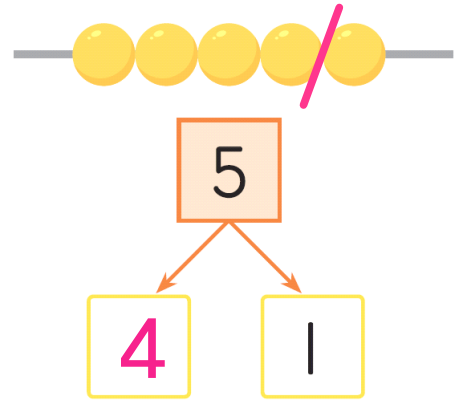
맞힌
개수

개

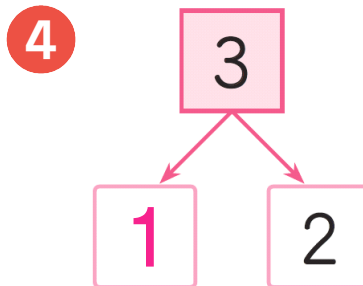
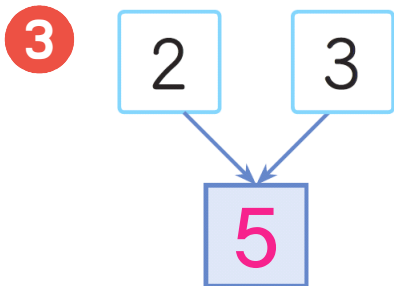
1 위에 공을 넣으면 아래에서 모여요.
모인 공의 수만큼 ○를 그리세요.



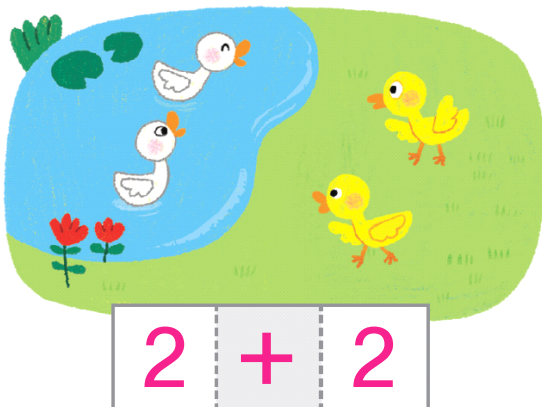
2 구슬을 아래 두 수로 갈라요.
/을 그리고 빈 곳에 수를 쓰세요.



[3~4] 수를 모으거나 가르세요.



5 오리는 모두 몇 마리일까요?
덧셈식을 만드세요.



6 나뭇가지에 새는 몇 마리 남을까요?
뺄셈식을 만드세요.



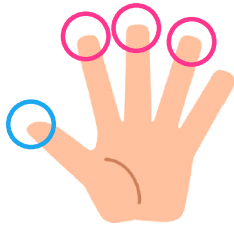
7 덧셈식과 뺄셈식을 만들어 보세요.

2 더하기 3 은 5
 $2 + 3 = 5$

5 빼기 2 는 3
 $5 - 2 = 3$

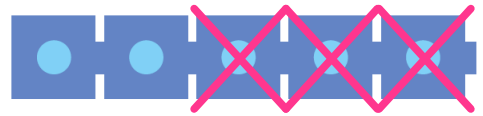
8 손가락에 ○를 그리고, 덧셈을 하세요.

$1 + 3 = 4$

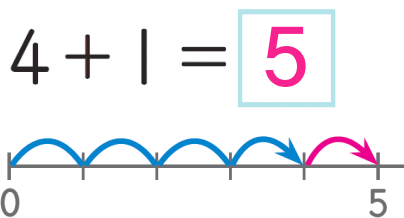


9 연결큐브에 ×표를 하고, 뺄셈을 하세요.

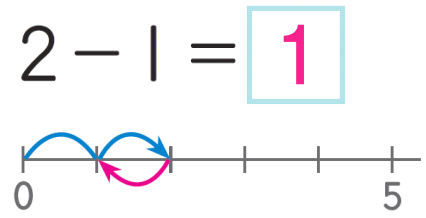
$5 - 3 = 2$



10 수직선에 화살표를 그리고, 덧셈을 하세요.



11 수직선에 화살표를 그리고, 뺄셈을 하세요.



[12~15] 덧셈과 뺄셈을 하세요.

12 $3 + 2 = 5$

13 $4 - 3 = 1$

14 $3 - 2 = 1$

15 $1 + 4 = 5$